

xyz 座標空間に、放物面体 $0 \leq z \leq 16 - (x^2 + y^2)$ と円柱 $(x - 2)^2 + y^2 \leq 4$ がある。この 2 つの立体の共通部分の体積 V を求めよ。

ヒント! $z = f(x, y) = 16 - (x^2 + y^2)$ とおき、 xy 平面上の領域 $D: (x - 2)^2 + y^2 \leq 4$ ($z = 0$) とおくと、求める共通部分の立体の体積 V は、 $V = \iint_D f(x, y) dx dy$ となる。ここで、 $x = r \cos \theta$, $y = r \sin \theta$ とおいて、極座標 r と θ による積分に置き換えて解いていけばよい。

解答&解説

放物面体と円柱，すなわち，

$$\begin{cases} 0 \leq z \leq 16 - (x^2 + y^2) & \text{と} \\ (x - 2)^2 + y^2 \leq 4 & \text{との} \end{cases}$$

共通部分の立体の体積 V は、

右に示すように、 xy 平面上の

領域 $D: (x - 2)^2 + y^2 \leq 4$ ($z = 0$)

において、曲面 $z = f(x, y)$

$= 16 - (x^2 + y^2)$ と xy 平面とで挟まれる立体の体積と等しい。よって、 V は、

$$V = \iint_D f(x, y) dx dy$$

$$= \iint_D \{16 - (x^2 + y^2)\} dx dy \cdots \cdots \textcircled{1} \text{ で求められる。}$$

ここで、 $x = r \cos \theta$, $y = r \sin \theta$ とおいて、

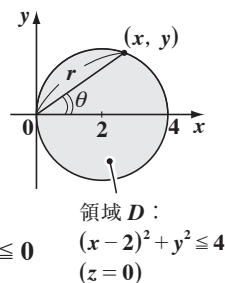
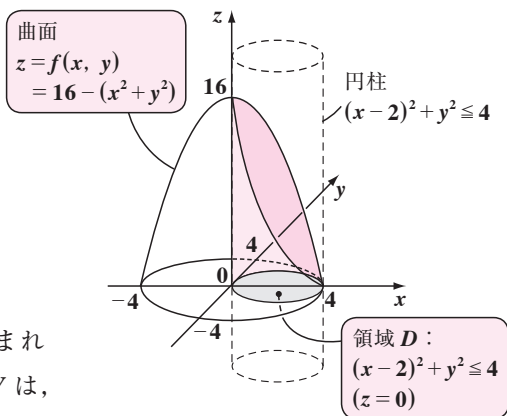
領域 $D: (x - 2)^2 + y^2 \leq 4$ ($z = 0$) を

r と θ で表すと、

$$\underbrace{(r \cos \theta - 2)^2 + r^2 \sin^2 \theta}_{\textcircled{1}} \leq 4 \quad r^2 (\underbrace{\cos^2 \theta + \sin^2 \theta}_{\textcircled{1}}) - 4r \cos \theta \leq 0$$

$$\underbrace{r^2 \cos^2 \theta - 4r \cos \theta + 4}_{\textcircled{1}}$$

$$r(r - 4 \cos \theta) \leq 0 \quad \therefore 0 \leq r \leq 4 \cos \theta \quad \left(-\frac{\pi}{2} \leq \theta \leq \frac{\pi}{2}\right)$$

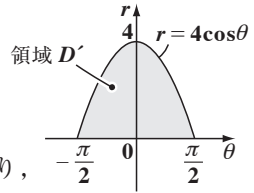


よって、領域 D を極座標系の新領域

$D' : 0 \leq r \leq 4\cos\theta \quad \left(-\frac{\pi}{2} \leq \theta \leq \frac{\pi}{2}\right)$ に変換すると、

①の被積分関数は、

$$16 - (x^2 + y^2) = 16 - \underbrace{(r^2 \cos^2\theta + r^2 \sin^2\theta)}_{r^2(\cos^2\theta + \sin^2\theta) = r^2} = 16 - r^2 \text{ となり、}$$



また、ヤコビアン $J = \frac{\partial(x, y)}{\partial(r, \theta)} = \begin{vmatrix} \frac{\partial x}{\partial r} & \frac{\partial x}{\partial \theta} \\ \frac{\partial y}{\partial r} & \frac{\partial y}{\partial \theta} \end{vmatrix} = r$ となる。

よって、①の積分を極座標 r, θ での積分に置換して求めると、

$$\begin{aligned} V &= \iint_{D'} (16 - r^2) \cdot r dr d\theta \\ &= \int_{-\pi/2}^{\pi/2} \left\{ \int_0^{4\cos\theta} (16r - r^3) dr \right\} d\theta \\ &= \int_{-\pi/2}^{\pi/2} \left[8r^2 - \frac{1}{4}r^4 \right]_0^{4\cos\theta} d\theta = 128\cos^2\theta - 64\cos^4\theta \\ &= 64 \times 2 \int_0^{\pi/2} (2\cos^2\theta - \cos^4\theta) d\theta \\ &= 128 \left(2 \int_0^{\pi/2} \cos^2\theta d\theta - \int_0^{\pi/2} \cos^4\theta d\theta \right) \end{aligned}$$

偶関数

ウォリスの公式
 $J_n = \int_0^{\pi/2} \cos^n x dx$
 について、
 $J_n = \frac{n-1}{n} \cdot J_{n-2}$

$$\left[\frac{1}{2} \cdot \frac{\pi}{2} = \frac{\pi}{4} \right] \quad \left[\frac{3}{4} \cdot \frac{1}{2} \cdot \frac{\pi}{2} = \frac{3}{16} \pi \right]$$

$$= 128 \left(2 \cdot \frac{\pi}{4} - \frac{3}{16} \pi \right) = 128 \times \frac{5}{16} \pi$$

∴求める立体の体積 $V = 40\pi$(答)